



**ARMY PUBLIC SCHOOL, BIRPUR**

**SESSION 2023-24**

**WINTER HOLIDAY HOMEWORK**

**CLASS -2**

★ **ENGLISH**

1. Get exposed to the world of reading through interesting story books. Choose your favourite story and answer the following on A4 size sheet:-

- a) Name of the book- \_\_\_\_\_
- b) Name of the author- \_\_\_\_\_
- c) I liked the book because \_\_\_\_\_
- d) The story is about \_\_\_\_\_

2. VOCABULARY HANGING

Cut a big circle on A4 size sheet and write the word “ CREATIVITY” on it. Now make as many 3-4 letter words as you can from it. Write each word on small cutouts of any shape from coloured papers. Attach these cutouts to the big circle using satin ribbon to make your vocabulary hanging.

- 3. Write one page handwriting daily for 7 days.
- 4. Paste pictures of any 5 proper and common nouns on A4 size sheet.
- 5. Compile all the work in a clear bag and submit.

**\* Learn all work done in book and notebook**

★ **EVS**

- 1) Make a Hot Air Balloon on an A4 sheet using old newspaper as shown below.
- 2) Revise all the work done for EV-3.




★ **MATHS**

- 1- Take print out of the worksheet given and complete it.



# WORKSHEET

Name: \_\_\_\_\_



Roll.no: \_\_\_\_\_





a. Complete the pattern with even number: \_\_\_\_ 58 \_\_\_\_ \_\_\_\_ 52 \_\_\_\_.

b. The place value of 4 in 413 is \_\_\_\_\_

c. Which is greater? 947 \_\_\_\_ 974

d. The next odd number after 600 is \_\_\_\_.

e. The position of A in INDIA is \_\_\_\_\_.

f. Multiplication fact for  $5+5+5+5+5+5+5$  is \_\_\_\_\_.

g. In  $72 \div 9 = 8$ , Divisor is \_\_\_\_\_.

h. How many horizontal and slanting lines are there in this figure? \_\_\_\_\_



i. A minute hand takes \_\_\_\_ minutes to move from 3 to 6.

j. How many jugs of capacity 250 mL can be filled from a bottle of capacity 1 litre? \_\_\_\_


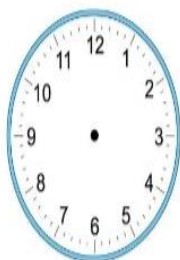
k. Add 19 kg 150 g and 68 kg 280 gm. \_\_\_\_\_


l. Subtract 38 m 26 cm from 50 m 48 cm. \_\_\_\_\_

m. What fraction is shaded? \_\_\_\_\_



n. Draw the hands to show the time quarter to 12.





प्र.6 सही विशेषण शब्द का उपयोग करके वाक्य पूरा कीजिए: “वह लड़का \_\_\_\_ है।

चल छोटा लिख

प्र.7 सही संज्ञा शब्द चुनकर लिखिए “मैंने एक बड़ी \_\_\_\_ बनाई।”

खाना गाड़ी मूर्ख

प्र.8 दिये गए शब्द का बहुवचन लिखिए “बच्चा”-

प्र.9 निम्नलिखित शब्दों के समानार्थक शब्द लिखिए

खुशी -

दुःख -

प्र.10 आपके विद्यालय का नाम क्या

है? \_\_\_\_\_

प्र.11 पूर्ण विराम चिन्ह पर गोला लगाईए

, | , ||

प्र.12 सही क्रिया शब्द लिखकर वाक्य पूरा कीजिए:

“मैंने एक गाना \_\_\_\_।


गाया गाती गाने

प्र.13 निम्नलिखित शब्दों में से संज्ञा शब्द के नीचे रेखा खींचिये

गाता, गाना, गायक



चित्र के अनुसार सही शब्द पर निशान लगाओ -



शेर

हाथी

घोड़ा



जग

कप

गिलास



लड़की

लड़का

औरत



लड़का

आदमी

लड़की



तोता

पक्षी

कोयल



चूड़ी

माला

धागा



चश्मा

कपड़े

कुर्सी



धोबी

नाई

डॉक्टर

प्र.14



पिता

शेर

मोर

बेटा

भाई

चूहा

लड़का

दादा



शेरनी

माता

चुहिया

लड़की

बेटी

दादी


बहन

मोरनी

प्र.15 मिलान करो:-

\*कार्य पत्रिका का प्रिंट आउट निकाल कर उसी में कार्य कीजिये\*





\*"चिड़िया का गीत" कविता याद कीजिये\*

\*कक्षा में (पुस्तक और नोटबुक) में करवाया गया सभी कार्य याद कीजिये\*

\*EV-III में आने वाले सभी पाठों को पढ़िए\*

